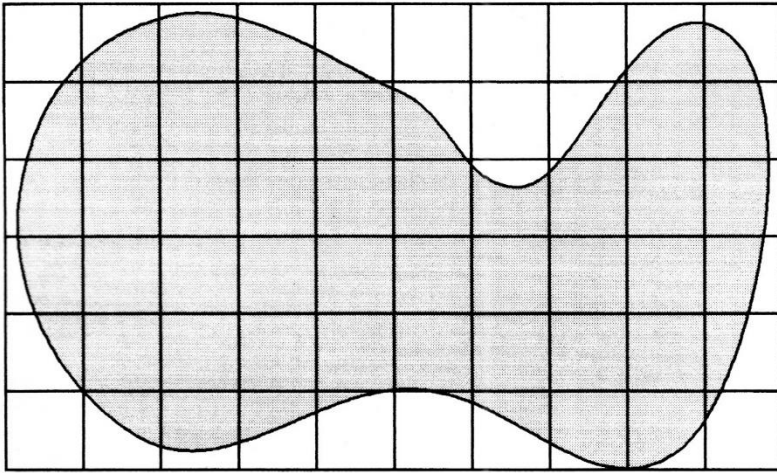


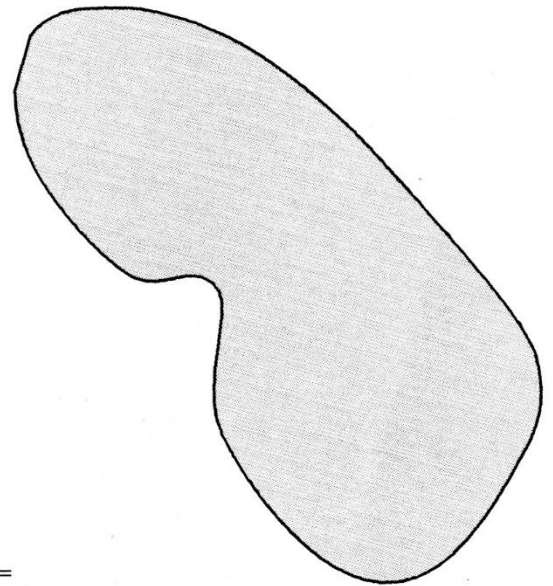
Flächeninhalte schätzen und berechnen

Aufgabe 1: Ermittle den Flächeninhalt der zwei ausgerollten Pizzateige.
Ganz genau ist dies nicht zu machen.




a) Flächeninhalt: $A =$

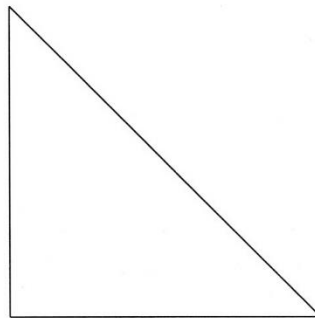
b) Flächeninhalt: $A =$



Aufgabe 2: Zeichne in die Figuren Flächenquadrate ein und bestimme den Flächeninhalt.




a)



b)

c)



Aufgabe 3: Berechne den Flächeninhalt eines Grundstücks,
das 45 m lang ist und 27 m breit.