


# Punkte und Linien

## 1. Aufgabe:

Miss mit dem Geodreieck oder Lineal die Längen der abgebildeten Strecken. Schreibe auf die Strecke die gemessene Zahl und die Maßeinheit (cm oder mm).



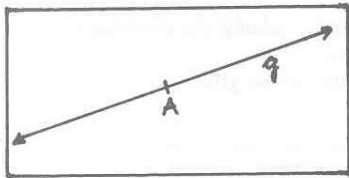
## 2. Aufgabe:

- Zeichne mit dem Geodreieck eine Strecke mit  $a = 6,7$  cm. Vergiss die Beschriftung nicht.
- Zeichne zwei zueinander parallele Geraden im Abstand von 1 cm.
- Zeichne zwei Geraden, die zueinander senkrecht stehen.
- Zeichne eine Gerade, die durch den Punkt P geht und zur Geraden senkrecht ist.

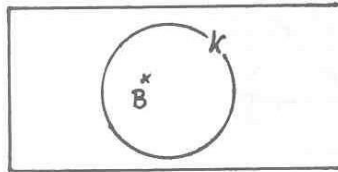
## 3. Aufgabe:

Zeichne jeweils ab und erkläre die geometrischen Darstellungen in wenigen Sätzen.

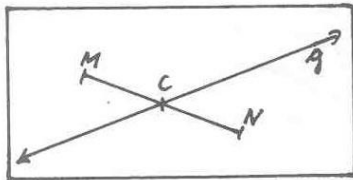
a)



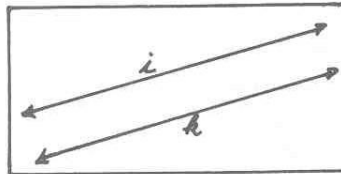
b)



c)



d)



e)

