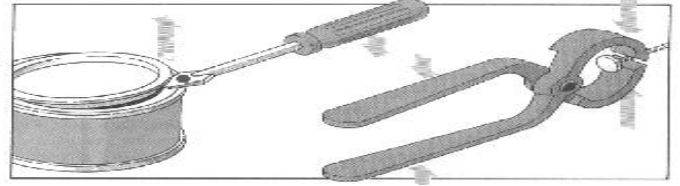
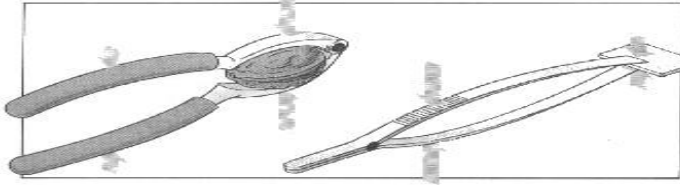
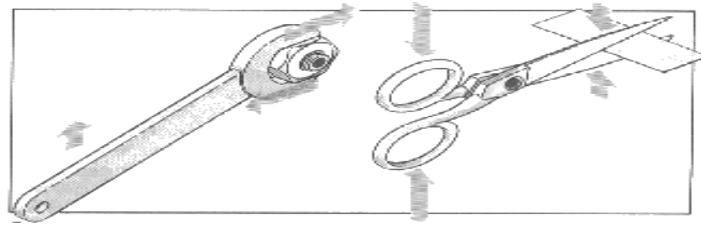
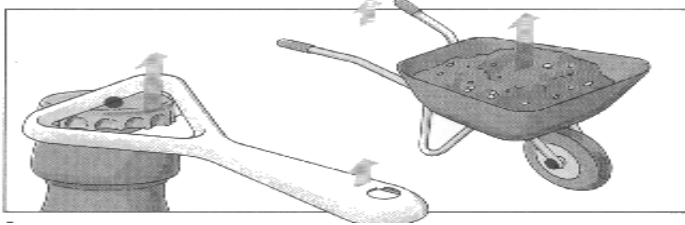


Wiederholung Hebel

1. Einseitiger oder zweiseitiger Hebel. Schreibe auf und zeichne die Teile des Hebels ein!

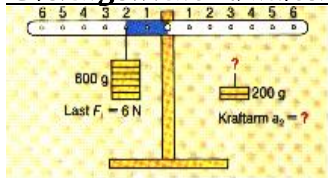


1. _____ 2. _____



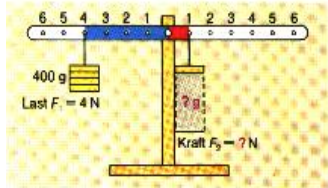
3. _____ 4. _____

2. Bestimme das Drehmoment der Last. Bestimme dann die Kraft die nötig ist, um den Hebel im Gleichgewicht zu halten



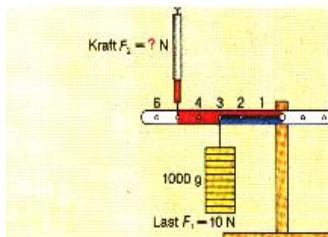
1. Drehmoment der Last:

2. Kraft auf dem Kraftarm:



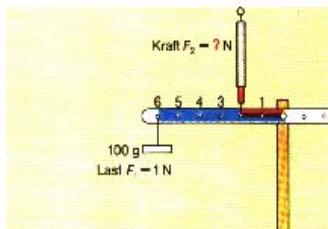
1. Drehmoment der Last:

2. Kraft auf dem Kraftarm:



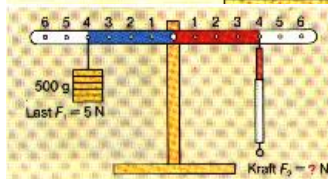
1. Drehmoment der Last:

2. Kraft auf dem Kraftarm:



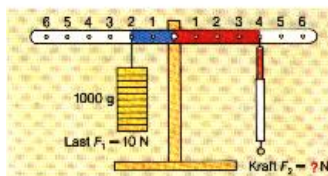
1. Drehmoment der Last:

2. Kraft auf dem Kraftarm:



1. Drehmoment der Last:

2. Kraft auf dem Kraftarm:



1. Drehmoment der Last:

2. Kraft auf dem Kraftarm:
